

සියලු ම හිමිකම් ඇවිරිණි / முழுப் பதிப்புரிமையுடையது / All Rights Reserved

ශ්‍රී ලංකා විභාග දෙපාර්තමේන්තුව ශ්‍රී ලංකා විභාග දෙපාර්තමේන්තුව ශ්‍රී ලංකා විභාග දෙපාර්තමේන්තුව ශ්‍රී ලංකා විභාග දෙපාර්තමේන්තුව ශ්‍රී ලංකා විභාග දෙපාර්තමේන්තුව
 இலங்கைப் பரீட்சைத் திணைக்களம் இலங்கைப் பரීட்சைத் திணைக்களம் இலங்கைப் பரීட்சைத் திணைக்களம் இலங்கைப் பரීட்சைத் திணைக்களம் இலங்கைப் பரීட்சைத் திணைக்களம்
 Department of Examinations Sri Lanka Department of Examinations Sri Lanka Department of Examinations Sri Lanka Department of Examinations Sri Lanka Department of Examinations Sri Lanka
 ශ්‍රී ලංකා විභාග දෙපාර්තමේන්තුව ශ්‍රී ලංකා විභාග දෙපාර්තමේන්තුව ශ්‍රී ලංකා විභාග දෙපාර්තමේන්තුව ශ්‍රී ලංකා විභාග දෙපාර්තමේන්තුව ශ්‍රී ලංකා විභාග දෙපාර්තමේන්තුව
 இலங்கைப் பரීட்சைத் திணைக்களம் இலங்கைப் பரීட்சைத் திணைக்களம் இலங்கைப் பரීட்சைத் திணைக்களம் இலங்கைப் பரීட்சைத் திணைக்களம் இலங்கைப் பரීட்சைத் திணைக்களம்
 Department of Examinations Sri Lanka Department of Examinations Sri Lanka Department of Examinations Sri Lanka Department of Examinations Sri Lanka Department of Examinations Sri Lanka

45 S I, II

අධ්‍යයන පොදු සහතික පත්‍ර (සාමාන්‍ය පෙළ) විභාගය, 2022(2023)
 கல்விப் பொதுத் தராதரப் பத்திர (சாதாரண தர)ப் பரீட்சை, 2022(2023)
 General Certificate of Education (Ord. Level) Examination, 2022(2023)

හරන නැටුම් I, II
 பரதநாட்டியம் I, II
 Bharatha Dancing I, II

පැය තුනකි
 மூன்று மணித்தியாலம்
 Three hours

අමතර කියවීමේ කාලය - මිනිත්තු 10 කි අමතර කියවීමේ කාලය ප්‍රශ්න පත්‍රය කිසිවා ප්‍රශ්න තෝරා ගැනීමටත් පිළිතුරු
 மேலதிக வாசிப்பு நேரம் - 10 நிமிடங்கள் ලිවීමේදී ප්‍රමුඛත්වය දෙන ප්‍රශ්න සංවිධානය කර ගැනීමටත් යොදාගන්න.
 Additional Reading Time - 10 minutes

හරන නැටුම් I

උපදෙස්:

- * සියලුම ප්‍රශ්නවලට පිළිතුරු සපයන්න.
- * අංක 1 සිට 40 තෙක් ප්‍රශ්නවල, දී ඇති (1), (2), (3), (4) යන පිළිතුරුවලින් නිවැරදි හෝ වඩාත් ගැළපෙන හෝ පිළිතුර තෝරා ගන්න.
- * ඔබට සැපයෙන පිළිතුරු පත්‍රයේ එක් එක් ප්‍රශ්නය සඳහා දී ඇති කව අතුරෙන් ඔබ තෝරාගත් පිළිතුරෙහි අංකයට සැසඳෙන කවක තුළ (X) ලකුණ භෞදන්.
- * එම පිළිතුරු පත්‍රයේ පිටුපස දී ඇති අනෙක් උපදෙස් ද සැලකිල්ලෙන් කියවා, ඒවා ද පිළිපදින්න.

1. නර්තනය විශ්වයට රැගෙන ආවේ
 - (1) ශිව දෙවියන් ය. (2) තණ්ඩ මුනි ය. (3) හරන මුනි ය. (4) බ්‍රහ්මා ය.
2. භාව, රාග සහ තාල යනු
 - (1) අභිනයේ උපකොටස් ය. (2) නර්තනයෙහි උපකොටස් ය.
 - (3) භාව ලක්ෂණ ය. (4) නර්තන ලක්ෂණ ය.
3. 'ඉදි ඉඩිත්තදු මින්නල් මින්නියදු' මෙහි 'මින්නල්' පෙන්වීම සඳහා භාවිත කරනු ලබන අසම්පූර්ණ හස්තය වන්නේ,
 - (1) අරාල ය. (2) කර්තරිමුඛ ය. (3) සුකතුණ්ඩ ය. (4) අර්ධ වන්දු ය.
4. සහා ලක්ෂණවල ඉගෙනගන්නා දේ කුමක් සමග සංසන්දනය කෙරේ ද?
 - (1) කිලෙයිකල් (2) තුම්බිකල්
 - (3) කර්පක විරුවම් (4) මලර්ගල්
5. මහපට ඇඟිල්ල සහ දඹර ඇඟිල්ල එකට තබා අතින් ඇඟිලි කෙලින් කිරීමෙන් නිර්මාණය වන අසම්පූර්ණ හස්තය වන්නේ,
 - (1) හම්සපක්ෂම් ය. (2) මිරුගඹර්ෂ ය. (3) හම්සාස්සිය ය. (4) සිම්හමුඛ ය.
6. අංජලී මුද්‍රාව භාවිත කර අත්පුඩි ගසා රිද්මයානුකූලව කරනු ලබන ශ්‍රාමීය නර්තනය කුමක් ද?
 - (1) කෝලාවටම් (2) කුම්මි
 - (3) ඔයිලාවටම් (4) කුරන්නි
7. හරන අඩව්වල ඇතුළත් උත්පලවන පාද හේදය භාවිත කරන අඩව්
 - (1) දිත්තෙයුන්ද තාතෙයි ය. (2) තෙයිතෙයිතත්තා ය.
 - (3) තාතෙයිතෙයිතත්තා ය. (4) දිදිතෙයි ය.
8. 'වස්වාස්සාතෙ' යන්නෙහි තේරුම කුමක් ද?
 - (1) ද්‍රව්‍ය ස්පර්ශය (2) ද්‍රව්‍ය ගැනීම (3) ද්‍රව්‍ය අල්ලා සිටීම (4) ද්‍රව්‍ය වසා නැබීම
9. නර්තන ප්‍රසංග ක්‍රමයට අනුව ප්‍රථමයෙන් අභිනය කොටස ඉදිරිපත් කරන නර්තන අංගය වන්නේ,
 - (1) සබ්දම් ය. (2) වර්ණම් ය. (3) කීර්තනම් ය. (4) ජදීෂ්වරම් ය.


- 10. දිය නැම සහ ලැජ්ජාව භාවිත කරන ශිරෝභේදය කුමක් ද?
 - (1) තුනම (2) අදොමුධම් (3) කම්පිතම් (4) උත්චාහිතම්
- 11. අවුනර් යුද්ධයේදී අසුරන් පලවා හැරීම සඳහා මුරුගන් නර්තනය කළ කුත්තුව වන්නේ,
 - (1) ජේඩ්ක් කුත්තු ය. (2) පාවෙව කුත්තු ය.
 - (3) මරක්කාල් කුත්තු ය. (4) කුගෙඩ කුත්තු ය.
- 12. ඉරන්තියන්ගේ අභංකාරය නැති කිරීම සඳහා තිරුමාල් තම ස්වරූපය භාගයක් සත්ත්ව ද භාගයක් මිනිස් ස්වරූපය ගත් අවතාරය වන්නේ,
 - (1) වාමන අවතාරයයි. (2) නරසිංහ අවතාරයයි.
 - (3) බලරාම අවතාරයයි. (4) ක්‍රිෂ්ණා අවතාරයයි.
- 13. විණා වාදනයෙහි ප්‍රසිද්ධ වන්නේ,
 - (1) කණ්කෙයර් ය. (2) මාණ්ක්කත්තාර් ය.
 - (3) වෙවණ්කර් ය. (4) වාත්තියක්කාරර් ය.
- 14. 'තෙයිහත් තෙයිහී' අඩවවෙහි වෙනත් නමක් වන්නේ,
 - (1) කුදින්ත මෙට්ටඅඩව ලෙස ය. (2) තට්ටිමෙට්ටි අඩව ලෙස ය.
 - (3) නාව් අඩව ලෙස ය. (4) පරවල් අඩව ලෙස ය.
- 15. නර්තන ශිල්පීන්ගේ සහයට සිටිය යුතු පකිප් පිරාණන්වලින් එකකි.
 - (1) ගායන හැකියාව (2) විඩා නැතිකම (3) සෘතිය (4) වේගය
- 16. සිතෙහි හටගන්නා හැඟීම් මුහුණින් සහ ශරීර කොටස් තුළින් ප්‍රකාශ කරන අභිනය වන්නේ,
 - (1) ආංගික අභිනයයි. (2) වාචික අභිනයයි.
 - (3) ආහාර්ය අභිනයයි. (4) සාත්වික අභිනයයි.
- 17. උඩුක්කු වාදනය සඳහා භාවිත කරනුයේ,
 - (1) එළු හම ය. (2) වසු පැටියාගේ හම ය.
 - (3) ගව හම ය. (4) මීහරක් හම ය.
- 18. දේව හස්තාහි වරුණන් පෙන්වීම සඳහා භාවිත කරන හස්ත මාරුකර භාව ප්‍රකාශ කිරීමේදී නිර්මාණය වන ජාති හස්තය කුමක් ද?
 - (1) ශක්‍රිය (2) සුත්තිරර් (3) වෙවසිකර් (4) රාක්ෂ
- 19. මිරුදන්ගයෙහි 'කණ්ච' නමැති ශබ්දය ගැනීම සඳහා ජලය සහ රුලං මිශ්‍රකර ආලේප කරන මිශ්‍රණය වන්නේ,
 - (1) කරණෙය ය. (2) බත් ය.
 - (3) සුප් ය. (4) මැංගනීස් කුඩු ය.
- 20. දෙවියන් ගෞරී තාණ්ඩවම් නර්තනය ඉදිරිපත් කර සභාව
 - (1) සිත්තිර සභාවයි. (2) රජ්ත සභාවයි.
 - (3) තාමීර සභාවයි. (4) සිටි සභාවයි.
- 21. කොටස් (කණ්ඩකෙ) අටකින් නිර්මාණය වී ඇති නර්තන අංගය වන්නේ,
 - (1) කෞත්වම් ය. (2) අෂ්ඨපති ය. (3) පදම් ය. (4) ජාවලි ය.
- 22. ආශාව ඉටු නොවීම නිසා සිදුවන මරණය හෙවත් අන්තිම හුස්ම සඳහා නිර්මාණය වන ඊතලය කුමක් ද?
 - (1) නෙළුම් (2) මුල්ලෙල
 - (3) නීලෝර්පලම් (4) අඹ මල්
- 23. ගායනය සහ ජදිය තාලය එක ම අවස්ථාවක ආරම්භ කිරීම
 - (1) සම එඩුප්පු ය. (2) විෂම එඩුප්පු ය.
 - (3) අතීත එඩුප්පු ය. (4) අනාගත එඩුප්පු ය.

24. නර්තන නාට්‍ය තෙලිගු භාෂාවෙන් රචනා කල රචකයා වන්නේ,
 (1) මේලට්ටූර් වෙංකටරාම ශාස්ත්‍රී ය. (2) කවිකුන්ජරභාරතී ය.
 (3) තියාගරාජර් ය. (4) ගිරිරාජකවී ය.
25. මගුඩ අඩව සහ කීර්මාණම් අඩව යනුවෙන් ද නම්කර ඇති අඩව කුමක් ද?
 (1) තන්තෙයිතාභා (2) තාභතජම්තරිතා
 (3) කිටතකතරිකිටතොම් (4) තාංගිඩතත්තන්දින්න
26. කිංකිණි බැඳ නර්තනය කරන නර්තන උත්සවය කුමක් ද?
 (1) කිලමෙක් කුත්තු (2) සට්ටම් කොඩුක්තල්
 (3) උඟරුක්කුවී වොල්ලල් (4) තිනක් කුත්තු
27. ;; දිදි; තෙයි; තාම්;; මෙහි මුළු මාත්‍රාවල එකතුව කීය ද?
 (1) 11 (2) 12 (3) 16 (4) 17
28. දැතින් ම හම්සාස්සියම් මුද්‍රාව තබාගෙන ඉන්පසු දකුණතින් පමණක් ශිඛර පෙන්වන ඥාති සම්බන්ධතාව වන්නේ,
 (1) ස්වාමියා ය. (2) පියා ය.
 (3) යුවල ය. (4) මාමණ්ඩි ය.
29. සැබෑ ලෙස කඳුළු සලා වේදිකාවේ රඟපෑම
 (1) සභානායක වේ. (2) ලෝකතර්ම වේ.
 (3) පාත්‍ර ලක්ෂණ වේ. (4) නාවටියධර්ම වේ.
30. මුළු අක්ෂර එකතුව 11 වන තාලය,
 (1) මිශ්‍රජාති රූපක තාලයයි. (2) කණ්ඩජාති මට්ටිය තාලයයි.
 (3) මිශ්‍රජාති ත්‍රිපුට තාලයයි. (4) චතුස්‍රජාති රූපක තාලයයි.
31. තුණංගෙයි නර්තනය කළ කාලය කුමක් ද?
 (1) සංක කාලය (2) සංකමරුවිය කාලය
 (3) පල්ලව කාලය (4) චෝල කාලය
32. තුරඟා වන්නමෙන් විදහා දැක්වෙන්නේ,
 (1) ඇත් වලන ය. (2) වඳුරාගේ වලන ය.
 (3) කන්ටක අශ්ව වලන ය. (4) සිංහ වලන ය.
33. මන්නාරම ප්‍රදේශයේ ප්‍රසිද්ධ කුත්තු වන්නේ,
 (1) වඩමොඩි කුත්තු ය. (2) තෙන්නොඩි කුත්තු ය.
 (3) කොවලන් කුත්තු ය. (4) වාසාප්පුක් කුත්තු ය.
34. කතකලි නර්තනයෙහි රතු රැවුල භාවිත කරන නර්තන චරිත වන්නේ කවුරුන් ද?
 (1) දේව දූතයන්, ක්‍රිෂ්ණන් (2) හනුමාන්, සුග්‍රීවන්
 (3) දුර්වේශ්වරන්, තුවිවාදනන් (4) ඉන්දිරන්, රාවණන්
35. නවරස සම්බන්ධව පහත සඳහන් ප්‍රකාශ සලකන්න.
 A - හයානක රසෙහි විරුද්ධ රස ලෙස ද උත්සාහය ස්ථායී භාව ලෙස ද වේ.
 B - ශාංගාර රසෙහි විරුද්ධ රස ලෙස ද පිළිකුල් කීරීම ස්ථායී භාව ලෙස ද වේ.
 C - මහේන්දිරන් දෙවියන් වශයෙන් ද කහ මිශ්‍ර වූ සුදු වර්ණය ලෙස ද වේ.
 D - මහා විෂ්ණු දෙවියන් වශයෙන් ද කොළ වර්ණය ලෙස ද වේ.
 මේවායින් භාස්‍ය රසයට ගැළපෙන ප්‍රකාශ වන්නේ,
 (1) A සහ C පමණි. (2) A සහ D පමණි.
 (3) B සහ C පමණි. (4) B සහ D පමණි.

● 36 සිට 40 දක්වා ඇති එක් එක් ප්‍රශ්නයට අදාළව දී ඇති රූපසටහන ආශ්‍රයෙන් සුදුසු වරණය තෝරන්න.


36. මෙම රූපයේ දැක්වෙන වාද්‍ය භාණ්ඩය කුමක් ද?

- (1) නාදස්වරම්
- (2) බටනලාව
- (3) කිලාර්කේටි
- (4) ඔත්තු



37. මෙම රූපයේ දැක්වෙන පෙරියාර් රචිත ගීතය කුමක් ද?

- (1) “සින්න කණ්ණන් එන්න සෙයිදාන් තෙරියුමා...”
- (2) “කණ්ණන් එංගල් කණ්ණනාමි...”
- (3) “කණ්ණන් පුරින්ද ලීලෙ සොල්ලුවෙන් කෙල්...”
- (4) “කාක්කෙචි සිරකිනිලේ නන්තලාලා...”



38. මෙහි සඳහන් සම්පූර්ණ හස්ත මුද්‍රාව කුමක් ද?

- (1) ඩෝල
- (2) ස්වස්තික
- (3) පුෂ්පපුට
- (4) කටකාවර්දන




39. මෙම රූපයේ දක්වා ඇති රසය කුමක් ද?

- (1) නිර්භීතකම
- (2) කෝපය
- (3) ශාංගාරය
- (4) භාසාය



40. මෙම රූපයේ පෙන්වාදෙන දෘෂ්ඨි හේදය කුමක් ද?

- (1) සාවි
- (2) ප්‍රාලෝකිත
- (3) උල්ලෝකිත
- (4) අනුවෘත්ත



**

සියලු ම හිමිකම් ඇවිරිණි / முழுப் பதிப்புரிமையுடையது / All Rights Reserved

ශ්‍රී ලංකා විභාග දෙපාර්තමේන්තුව ශ්‍රී ලංකා විභාග දෙපාර්තමේන්තුව ශ්‍රී ලංකා විභාග දෙපාර්තමේන්තුව ශ්‍රී ලංකා විභාග දෙපාර්තමේන්තුව ශ්‍රී ලංකා විභාග දෙපාර්තමේන්තුව
 இலங்கைப் பரீட்சைத் திணைக்களம் இலங்கைப் பரීட்சைத் திணைக்களம் இலங்கைப் பரීட்சைத் திணைக்களம் இலங்கைப் பரීட்சைத் திணைக்களம் இலங்கைப் பரීட்சைத் திணைக்களம்
 Department of Examinations Sri Lanka Department of Examinations Sri Lanka Department of Examinations Sri Lanka Department of Examinations Sri Lanka Department of Examinations Sri Lanka
 இலங்கைப் பரීட்சைத் திணைக்களம் இலங்கைப் பரීட்சைத் திணைக்களம் இலங்கைப் பரීட்சைத் திணைக்களம் இலங்கைப் பரීட்சைத் திணைக்களம் இலங்கைப் பரීட்சைத் திணைக்களம்
 Department of Examinations Sri Lanka Department of Examinations Sri Lanka Department of Examinations Sri Lanka Department of Examinations Sri Lanka Department of Examinations Sri Lanka

45 S I, II

**අධ්‍යයන පොදු සහතික පත්‍ර (සාමාන්‍ය පෙළ) විභාගය, 2022(2023)
 கல்விப் பொதுத் தராதரப் பத்திர (சாதாரண தர)ப் பரீட்சை, 2022(2023)
 General Certificate of Education (Ord. Level) Examination, 2022(2023)**

හරන නැටුම්	I, II
பரதநாட்டியம்	I, II
Bharatha Dancing	I, II

හරන නැටුම් II

* පළමුවැනි ප්‍රශ්නය හා තවත් ප්‍රශ්න හතරක් ඇතුළු ව ප්‍රශ්න පහකට පමණක් පිළිතුරු සපයන්න.

- පහත සඳහන් ප්‍රශ්නවලට කෙටි පිළිතුරු සපයන්න.
 - පළවෙනි තත්තෙයිනාහා අඩව නිර්මාණය වී ඇති තාලය කුමක් ද?
 - චතුස්‍රජාති අඩකාලයෙහි අංග ලාංඡන සහිතව ලියන්න.
 - අඩව කිහිපයක එකතුව කෙසේ හැඳින්වේ ද?
 - අඩු බරකින් යුත් වස්ත්‍ර භාවිත කර නර්තනය කරනු ලබන කුක්කු කුමක් ද?
 - ස්වර පමණක් භාවිත කර සාහිත්‍ය රහිතව නිර්මාණය වී ඇති නර්තන අංගය කුමක් ද?
 - මහමේරු සහ දට්ටිනමේරු යන සෙල්ලිපිවල සඳහන් වන කෝවිල කුමක් ද?
 - හරන නාට්‍යය 'කුලගුරු' යන සුවිශේෂතාවයෙන් හඳුන්වන්නේ කවුද?
 - වයලීනය හඳුන්වන වෙනත් නමක් සඳහන් කරන්න.
 - විභාවෙහි කොටස් දෙක නම් කරන්න.
 - සංක මරුවිය කාලයෙහි සුවිශේෂත්වයට පත් වූ නර්තන කාන්තාව කවුද? ඇයට පිරිනමා ඇති ගෞරව සම්මානය කුමක් ද?
- සාම්ප්‍රදායික නර්තන ප්‍රසංග ක්‍රමයට අනුව ප්‍රථමයෙන් ම ඉදිරිපත් කරන නිරූපන නර්තන අංගය කුමක් ද? එහි රාගය සහ තාලය ලියා දක්වන්න.
 - ඉහත (i) හි සඳහන් කර ඇති නර්තන අංගයෙහි ඇතුළත් ශිරෝ, දිෂ්ඨි, ශ්‍රීවා, පාද බේද වගුවක ආධාරයෙන් පෙන්වන්න.
 - ඉහත (i) හි සඳහන් කර ඇති නර්තන අංගයෙහි තීර්මාණම් කොටසෙහි සිට අන්තිම දක්වා වූ තාල සහ අංග සංකේත දක්වමින් ලියන්න.
- 'දේවීග ආධර්කලෙයි' යන ග්‍රන්ථය රචනා කළේ කවුද?
 - ඉහත (i) හි සඳහන් කර ඇති කලාකරුවා හරන නර්තනයට කළ සේවය ඇගයීම සඳහා ඔහුට ප්‍රදානය කළ ගෞරව සම්මාන හතරක් සඳහන් කරන්න.
 - ඉහත (i) හි සඳහන් කලාකරු, කලාව සඳහා කර ඇති සේවය පැහැදිලි කරන්න.
- පහත සඳහන් හස්තවලට අයත් විනියෝහ සහ ස්ලෝග එහි අර්ථය ද සහිතව ලියන්න.
 - ත්‍රිශූල හස්ත
 - නාගබන්ද හස්ත
 - වරාග හස්ත
 - පාෂ හස්ත

- 5. (i) හරහ නර්තන ප්‍රසංගයකදී නටුවනාර් භාවිත කරන තාලවාද්‍ය කුමක් ද?
 - (ii) ඉහත (i) හි සඳහන් කළ සංගීත භාණ්ඩය ඇද, එහි කොටස් නම් කරන්න.
 - (iii) හරහ නර්තන ප්‍රසංගයේදී ඉහත (i) හි සඳහන් සංගීත භාණ්ඩයෙහි දායකත්වය පිළිබඳ සවිස්තරාත්මකව ලියන්න.
- 6. (i) ඔබ කැමති ඉන්ද්‍රිය ශාස්ත්‍රීය නර්තන හතරක් සඳහන් කරන්න.
 - (ii) ප්‍රසිද්ධ දකුණු ඉන්ද්‍රිය ශාස්ත්‍රීය නර්තන හතරක් සහ ඒවා අයත් වන ප්‍රදේශ වගුවක සඳහන් කරන්න.
 - (iii) හරහ මුනි විසින් සොයාගත් නර්තනයෙහි ආරම්භය, සංවර්ධනය සහ දායකත්වය ලබාදුන් කලාකරුවන් සඳහන් කර, පැහැදිලි කරන්න.
- 7. පහත සඳහන් ඒවා පිළිබඳ කෙටි සටහන් ලියන්න.
 - (i) අඩව
 - (ii) කෝත්තුවම්
 - (iii) ඒන්දල් නර්තනය
